

Opgave 2 – Wereld: Mondiale bevolkingsontwikkeling

Bij deze opgave horen de bronnen 4 en 5.

Gebruik bron 4.

Volgens de Verenigde Naties groeit de wereldbevolking tot zo'n 11 miljard mensen in 2100. Daarna zal de wereldbevolking stabiliseren en uiteindelijk zelfs gaan dalen.

- 2p **5** Geef aan
- op welke demografische ontwikkeling de verwachting gebaseerd is dat de wereldbevolking op termijn zal stabiliseren;
 - waardoor de wereldbevolking ondanks deze ontwikkeling voorlopig toch blijft groeien.

Onderzoekers van de Universiteit van Washington verwachten dat de wereldbevolking al in 2064 stabiliseert (zie bron 4). Zij zien de verbeterde toegang tot onderwijs voor meisjes hier als oorzaak van.

- 3p **6** Beredeneer eerst waarom de verbeterde toegang tot onderwijs voor meisjes ertoe kan leiden dat de wereldbevolking stabiliseert. Geef vervolgens een reden vanuit de sociaal-culturele dimensie waarom vrouwen in perifere landen toch nog vaak veel kinderen krijgen.

Gebruik de bronnen 4 en 5.

Bron 5 geeft de bevolkingsontwikkeling weer van vier macroregio's: Noord-Amerika, Oost-Azië, Sub-Sahara Afrika en Zuid-Amerika.

- 2p **7** Noteer de letters a tot en met d onder elkaar op je antwoordblad. Schrijf achter elke letter de bijbehorende macroregio.

De verwachte bevolkingsontwikkeling heeft invloed op de demografische druk.

- 2p **8** Beredeneer welke invloed de verwachte bevolkingsontwikkeling in centrumlanden op de demografische druk zal hebben.

Opgave 2 – Wereld: Mondiale bevolkingsontwikkeling

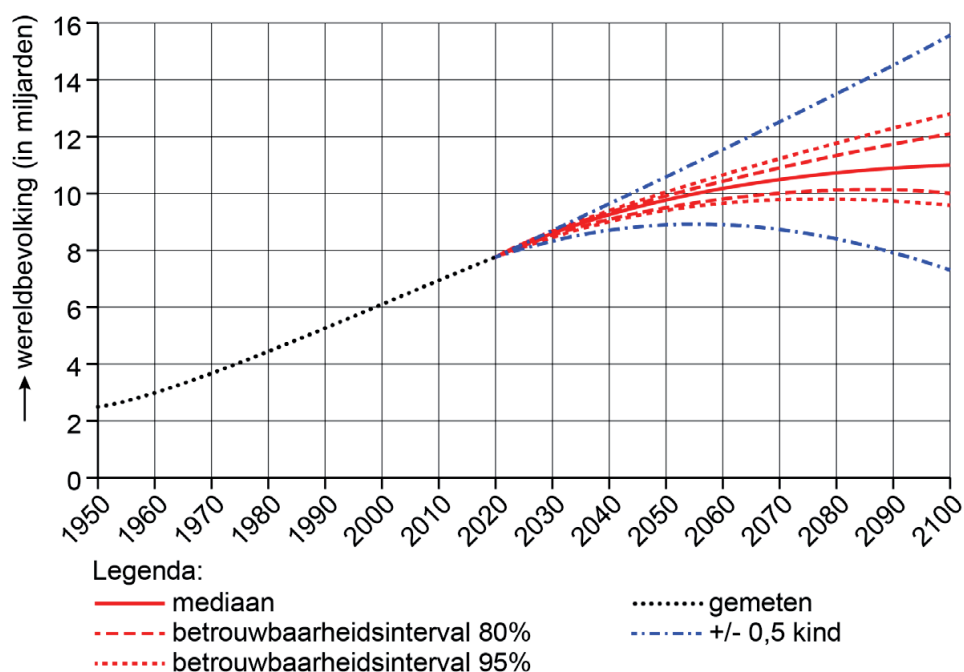
bron 4

Ontwikkeling van de wereldbevolking

In 2019 hebben de Verenigde Naties een onderzoek gedaan naar de ontwikkeling van de wereldbevolking tot 2100. In dit onderzoek wordt ervan uitgegaan dat de wereldbevolking piekt in 2100 met zo'n 11 miljard mensen.

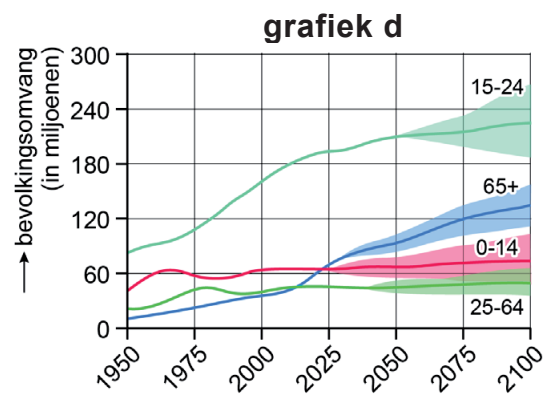
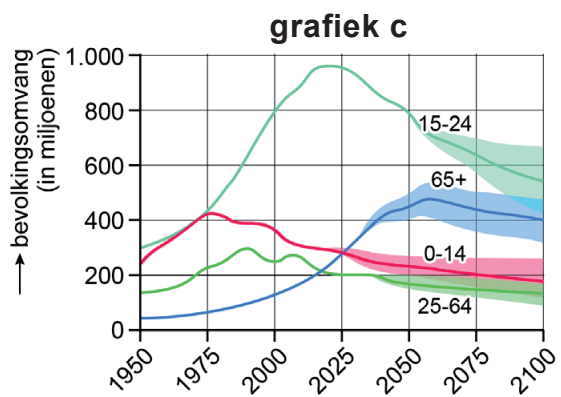
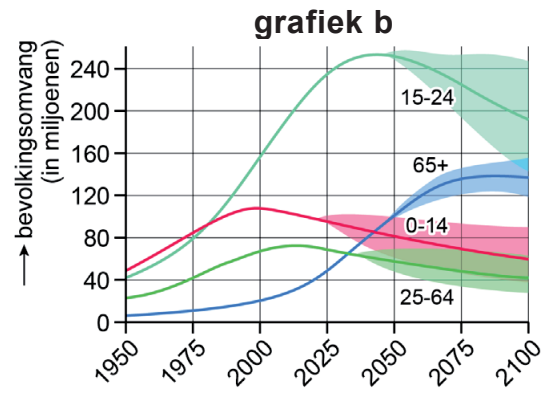
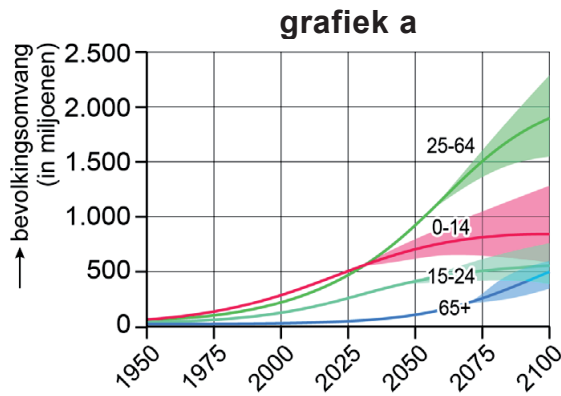
Onderzoekers van de Universiteit van Washington verwachten dat de piek in de wereldbevolking al eerder wordt bereikt. Zij verwachten dat er in 2064 9,7 miljard mensen op de wereld rondlopen en dat de wereldbevolking dan stabiliseert en later zal gaan dalen.

Model ontwikkeling wereldbevolking van de Verenigde Naties



bron 5

Bevolkingsontwikkeling per leeftijdsgroep van vier macroregio's
(met betrouwbaarheidsinterval 95%)



Bronvermelding

Een opsomming van de in dit examen gebruikte bronnen, zoals teksten en afbeeldingen, is te vinden in het bij dit examen behorende correctievoorschrift.